

Nazwa kwalifikacji: **Prowadzenie działalności handlowej**
Oznaczenie kwalifikacji: **A.22**
Wersja arkusza: **X**

A.22-X-17.01
Czas trwania egzaminu: **60 minut**

EGZAMIN POTWIERDZAJĄCY KWALIFIKACJE W ZAWODZIE
Rok 2017
CZĘŚĆ PISEMNA

Instrukcja dla zdającego

1. Sprawdź, czy arkusz egzaminacyjny zawiera 12 stron. Ewentualny brak stron lub inne usterki zgłoś przewodniczącemu zespołu nadzorującego.
2. Do arkusza dołączona jest KARTA ODPOWIEDZI, na której w oznaczonych miejscach:
 - wpisz oznaczenie kwalifikacji,
 - zamaluj kratkę z oznaczeniem wersji arkusza,
 - wpisz swój numer PESEL*,
 - wpisz swoją datę urodzenia,
 - przyklej naklejkę ze swoim numerem PESEL.
3. Arkusz egzaminacyjny zawiera test składający się z 40 zadań.
4. Za każde poprawnie rozwiązane zadanie możesz uzyskać 1 punkt.
5. Aby zdać część pisemną egzaminu musisz uzyskać co najmniej 20 punktów.
6. Czytaj uważnie wszystkie zadania.
7. Rozwiązania zaznaczaj na KARCIE ODPOWIEDZI długopisem lub piórem z czarnym tuszem/atramentem.
8. Do każdego zadania podane są cztery możliwe odpowiedzi: A, B, C, D. Odpowiada im następujący układ krater w KARCIE ODPOWIEDZI:

A	B	C	D
---	---	---	---

9. Tylko jedna odpowiedź jest poprawna.
10. Wybierz właściwą odpowiedź i zamaluj kratkę z odpowiadającą jej literą – np., gdy wybrałeś odpowiedź „A”:

<input checked="" type="checkbox"/>	B	C	D
-------------------------------------	---	---	---

11. Staraj się wyraźnie zaznaczać odpowiedzi. Jeżeli się pomylisz i błędnie zaznaczysz odpowiedź, otocz ją kółkiem i zaznacz odpowiedź, którą uważasz za poprawną, np.

<input checked="" type="checkbox"/>	B	C	<input checked="" type="checkbox"/>
-------------------------------------	---	---	-------------------------------------

12. Po rozwiązaniu testu sprawdź, czy zaznaczyłeś wszystkie odpowiedzi na KARCIE ODPOWIEDZI i wprowadziłeś wszystkie dane, o których mowa w punkcie 2 tej instrukcji.

Pamiętaj, że oddajesz przewodniczącemu zespołu nadzorującego tylko KARTĘ ODPOWIEDZI.

Powodzenia!

* w przypadku braku numeru PESEL – seria i numer paszportu lub innego dokumentu potwierdzającego tożsamość

Zadanie 1.

Informacje na temat wielkości zapotrzebowania na dany towar, uzyskane w badaniach przeprowadzonych przez właściciela hurtowni wśród swoich sprzedawców są informacjami

- A. wewnętrznymi pierwotnymi.
- B. zewnętrznymi pierwotnymi.
- C. wewnętrznymi wtórnymi.
- D. zewnętrznymi wtórnymi.

Zadanie 2.

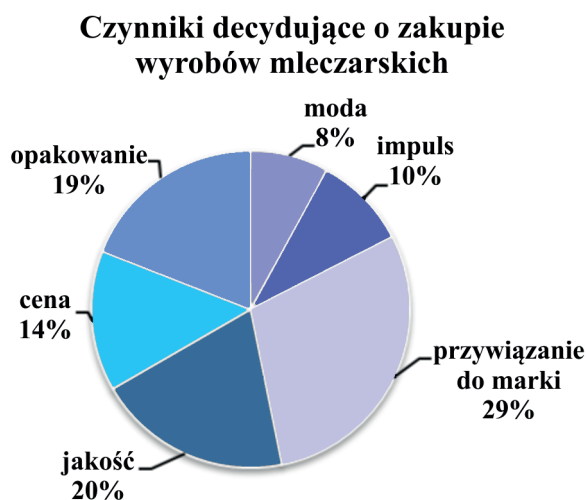
Metoda badania rynku polegająca na ciągłym lub systematycznym badaniu tej samej grupy osób, tym samym narzędziem badawczym to

- A. eksperyment rynkowy.
- B. badanie ankietowe.
- C. badanie panelowe.
- D. obserwacja rynku.

Zadanie 3.

Na podstawie zamieszczonego wykresu określ, który rodzaj zachowań rynkowych dominował wśród respondentów.

- A. Emocjonalne.
- B. Nierutynowe.
- C. Racjonalne.
- D. Nawykowe.



Zadanie 4.

Zgodnie z obowiązującymi przepisami w Polsce istnieje całkowity zakaz reklamy

- A. fajerwerków.
- B. papierosów.
- C. słodzików.
- D. piwa.

Zadanie 5.

Reklama istotnie ingerująca w sferę prywatności, w szczególności przez nagabywanie klientów w miejscach publicznych, przesyłanie na koszt klienta niezamówionych towarów lub nadużywanie technicznych środków przekazu informacji.

Której reklamy dotyczy przedstawiona charakterystyka?

- A. Porównawczej.
- B. Społecznej.
- C. Uciążliwej.
- D. Ukrytej.

Zadanie 6.

Który zestaw narzędzi promocji powinna wykorzystać hurtownia artykułów florystycznych, jeżeli dysponuje ona ograniczonymi funduszami?

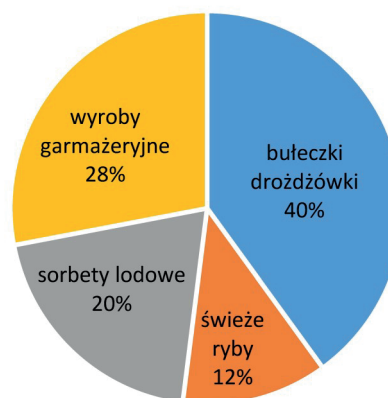
A.	B.
– zatrudnienie znanej celebrytki jako „twarzy firmy” – sponsoring zawodów sportowych	– zatrudnienie przedstawicieli handlowych – reklama w radiu
C.	D.
– listy wysyłkowe – spot w telewizji śniadaniowej	– plansza reklamowa ustawiona przy skrzyżowaniu głównych ulic miasta – wizytówki i foldery reklamowe dostarczone do lokalnych kwiaciarni

Zadanie 7.

Na podstawie zamieszczonego wykresu określ, o który towar w pierwszej kolejności powinien właściciel powiększyć ofertę sklepu.

- A. Wyroby garmażeryjne.
- B. Bułeczki drożdżówki.
- C. Sorbety lodowe.
- D. Świeże ryby.

**Rozkład odpowiedzi na pytanie:
„Który rodzaj towaru powinien znaleźć się
w ofercie naszego sklepu?”**



Zadanie 8.

W hurtowni sprzętu sportowego sprzedaż desek pływackich w poprzednim kwartale wyniosła 12 400 szt. Zapotrzebowanie na deski pływackie w hurtowni w bieżącym kwartale w stosunku do poprzedniego kwartału wzrosło o 5%. Ustal wielkość zapotrzebowania na deski pływackie w bieżącym kwartale.

- A. 11 780 szt.
- B. 12 405 szt.
- C. 13 020 szt.
- D. 18 600 szt.

Zadanie 9.

W której części planu marketingowego należy zamieścić wnioski z przeprowadzonej analizy pozycji firmy?

- A. W opisie sytuacji rynkowej.
- B. W strategiach marketingowych.
- C. W streszczeniu dla kierownictwa.
- D. W celach działalności marketingowej.

Zadanie 10.

Na podstawie zamieszczonego fragmentu klasyfikacji wskaż symbol klasy, do której zaliczana jest pościel.

Fragment Polskiej Klasyfikacji Wyrobów i Usług

Uwagi metodyczne (...) Struktura grupowań PKWiU 2015, ich symbole i sposób zapisu, ogólne nazwy grupowań poszczególnych szczebli są następujące:	
Symbole grupowań	Ogólne nazwy grupowań
A	sekcja
XX	dział
XX.X	grupa
XX.XX	klasa
XX.XX.X	kategoria
XX.XX.XX	podkategoria
XX.XX.XX.X	pozycja
Schemat klasyfikacji (...)	
13	WYROBY TEKSTYLNE
13.2	Tkaniny
13.9	Pozostałe wyroby tekstylne
13.91	Dzianiny metrażowe
13.92	Gotowe wyroby tekstylne (z wyłączeniem odzieży)
13.92.11	Koce i pledy, z wyłączeniem koców elektrycznych
13.92.12	Pościel

- A. 13.92.12
- B. 13.92.11
- C. 13.92
- D. 13.91

Zadanie 11.

Który element powinien znaleźć się obowiązkowo w ofercie handlowej?

- A. Informacja o pozycji rynkowej producenta.
- B. Warunki rękojmi za wady towaru.
- C. Cena oferowanych towarów.
- D. Podpis prezesa.

Zadanie 12.

Którą formę sprzedaży należy zastosować w niewielkim sklepie ze sprzętem komputerowym?

- A. Tradycyjną ze zredukowaną obsługą.
- B. Tradycyjną z rozwiniętą obsługą.
- C. Samoobsługową.
- D. Specjalną.

Zadanie 13.

Fragment ustawy o ochronie zdrowia przed następstwami używania tytoniu i wyrobów tytoniowych

(...)

Art. 6.

1. Zabrania się sprzedaży wyrobów tytoniowych osobom do lat 18. W miejscu sprzedaży wyrobów tytoniowych umieszcza się widoczną i czytelną informację o treści: „Zakaz sprzedaży wyrobów tytoniowych osobom do lat 18 (art. 6 ust. 1 ustawy z dnia 9 listopada 1995 r. o ochronie zdrowia przed następstwami używania tytoniu i wyrobów tytoniowych)”.

1a. W przypadku wątpliwości co do pełnoletności kupującego wyroby tytoniowe sprzedawca może zażądać okazania dokumentu potwierdzającego wiek kupującego.

2. Zabrania się sprzedaży wyrobów tytoniowych na terenie podmiotów wykonujących działalność leczniczą w rozumieniu przepisów o działalności leczniczej, szkół i placówek oświatowo-wychowawczych oraz obiektów sportowo-rekreacyjnych.

3. Zabrania się sprzedaży wyrobów tytoniowych w automatach.

4. Zabrania się sprzedaży papierosów w opakowaniach zawierających mniej niż dwadzieścia sztuk oraz luzem bez opakowania.

5. Zabrania się sprzedaży detalicznej wyrobów tytoniowych w systemie samoobsługowym, z wyjątkiem sklepów wolnościowych.

(...)

Handlowiec prowadzi sprzedaż detaliczną we własnym sklepie usytuowanym na osiedlu mieszkaniowym. Zgodnie z zamieszczonym fragmentem ustawy może w nim sprzedawać

- A. papierosy w opakowaniach zawierających mniej niż 20 sztuk.
- B. wyroby tytoniowe klientom pełnoletnim.
- C. wyroby tytoniowe wszystkim klientom.
- D. papierosy luzem.

Zadanie 14.

Oblicz cenę sprzedaży netto towaru opodatkowanego stawką podatku VAT 8%, jeżeli cena zakupu netto wynosi 50,00 zł, a przedsiębiorstwo handlowe stosuje 20% marżę liczoną od ceny zakupu netto.

- A. 54,00 zł
- B. 60,00 zł
- C. 62,50 zł
- D. 64,80 zł

Zadanie 15.

Pracownik magazynu z artykułami papierniczymi niewłaściwie przechowywał papier ksero, wskutek czego uległ on zawilgoceniu. Zdarzenie to spowodowało wadę papieru

- A. zasadniczą ukrytą.
- B. zasadniczą jawną.
- C. nieistotną ukrytą.
- D. nieistotną jawną.

Zadanie 16.


Który ze znaków oznacza „dozwolony kontakt z żywnością”?



A.



B.



C.



D.

Zadanie 17.

Zgodnie z metodą FEFO jako pierwsze zostaną wydane z magazynu towary

- A. z najkrótszą datą przydatności.
- B. z najdłuższą datą przydatności.
- C. przyjęte najwcześniej.
- D. przyjęte najpóźniej.

Zadanie 18.

Na podstawie danych zamieszczonych w tabeli ustal zapas końcowy szamponów pokrzywowych.

- A. 5 740 szt.
- B. 4 180 szt.
- C. 320 szt.
- D. 300 szt.

Towar	Zapas początkowy	Zakup	Sprzedaż
Szampon pokrzywowy	620 szt.	4 800 szt.	5 120 szt.

Zadanie 19.

Pracownik odpowiedzialny za przeprowadzenie odbioru ilościowego **nie sprawdza**

- A. zgodności ilości dostarczonego towaru z ilością zapisaną w dokumentach dostawczych.
- B. zgodności ilości dostarczonego towaru z ilością w zamówieniu.
- C. stanu opakowań zbiorczych.
- D. oznakowania towarów.

Zadanie 20.

Które urządzenie służy do ręcznego przewozu palet?



A.



B.



C.



D.

Zadanie 21.

Który dokument magazynowy sporządza się przy przyjęciu towarów od dostawcy?

- A. PZ – przyjęcie zewnętrzne.
- B. WZ – wydanie zewnętrzne.
- C. RW – rozchód wewnętrzny.
- D. PW – przyjęcie wewnętrzne.

Zadanie 22.

Faktury zakupu licząc od końca roku kalendarzowego, w którym upłynął termin płatności podatku, należy przechowywać

- A. 50 lat.
- B. 25 lat.
- C. 10 lat.
- D. 5 lat.

Zadanie 23.

Podstawowym aktem prawnym normującym zasady prowadzenia ksiąg handlowych jest ustawa

- A. o podatku dochodowym od osób fizycznych.
- B. o podatku dochodowym od osób prawnych.
- C. o kontroli skarbowej.
- D. o rachunkowości.

Zadanie 24.

Obroty debetowe na przedstawionym koncie *Rachunek bieżący* wynoszą

- A. 46 200,00
- B. 37 257,50
- C. 24 000,00
- D. 8 942,50

Dt	Rachunek bieżący		Ct
Sp.)	24 000,00		3 200,00
	15 400,00		5 400,00
	6 800,00		342,50

Zadanie 25.

Zapis operacji gospodarczej zwiększającej stan zapasów na koncie *Towary* określany jest jako

- A. zapisanie w ciężar konta.
- B. zapisanie na dobro konta.
- C. kredytowanie konta.
- D. uznanie konta.

Zadanie 26.

Dt	Kasa		Ct	Dt	Rozrachunki z dostawcami		Ct
Sp.)	5 400,00		2 200,00 (1		1) 2 200,00		2 200,00 (Sp.

Zapisana na przedstawionych kontach operacja gospodarcza potwierdza

- A. powstanie zobowiązania wobec dostawcy, które uregulowane będzie z rachunku bankowego.
- B. zapłatę z rachunku bankowego zobowiązania wobec dostawcy.
- C. zapłatę gotówką zobowiązania wobec dostawcy.
- D. zakup towarów u dostawcy.

Zadanie 27.

Ustalone na koniec okresu obrachunkowego saldo końcowe przedstawionego konta *Kasa* oznacza

- A. saldo debetowe 2 500,00 zł
- B. saldo kredytowe 1 600,00 zł
- C. saldo debetowe 900,00 zł
- D. saldo kredytowe 900,00 zł

Dt	Kasa		Ct
Sp.)	1 000,00		600,00
	800,00		1 000,00
	700,00		

Zadanie 28.

Urządzenie chłodnicze o wartości początkowej 9 000,00 zł jest amortyzowane metodą liniową przy zastosowaniu rocznej stawki amortyzacyjnej 10%. Wartość bieżąca urządzenia chłodniczego po dwóch latach eksploatacji wyniesie

- A. 9 000,00 zł
- B. 8 100,00 zł
- C. 7 200,00 zł
- D. 1 800,00 zł

Zadanie 29.

Do kosztów działalności handlowej zalicza się

- A. koszty delegacji pracownika działu księgowości.
- B. opłatę za prowadzenie rachunku bankowego.
- C. amortyzację komputera w dziale kadr.
- D. wynagrodzenia brutto sprzedawców.

Zadanie 30.

Hurtownik kupił towar od producenta w cenie zakupu netto 16,00 zł/szt. W hurtowni marżę w wysokości 20% oblicza się metodą „w stu”, czyli od ceny sprzedaży netto. Ile wynosi hurtowa cena sprzedaży netto towaru?

- A. 20,00 zł/szt.
- B. 19,20 zł/szt.
- C. 12,80 zł/szt.
- D. 12,00 zł/szt.

Zadanie 31.

Zestawienie różnic inwentaryzacyjnych

Towary	Cena jednostkowa	Niedobory		Nadwyżki	
		ilość	wartość	ilość	wartość
Dezodorant <i>Uroda</i>	8,00 zł	22 szt.	176,00 zł		
Dezodorant <i>Mgła</i>	10,00 zł			30 szt.	300,00 zł
Mydło <i>Kwiat lipy</i>	5,00 zł	10 szt.	50,00 zł		
Szampon <i>Finezja</i>	3,00 zł			8 szt.	24,00 zł

Na podstawie przedstawionego *Zestawienia różnic inwentaryzacyjnych* ustal wartość kompensaty dezodorantów według zasady „mniejsza ilość, niższa cena”.

- A. 300,00 zł
- B. 220,00 zł
- C. 176,00 zł
- D. 124,00 zł

Zadanie 32.

Fragment ustalania wyniku finansowego przedsiębiorstwa handlowego za rok 2015 metodą statystyczną

Elementy składowe wyniku finansowego i wyniki cząstkowe	Wartość w tys. zł
.....
Zysk (strata) z działalności operacyjnej	6 620
Przychody finansowe	340
Koszty finansowe	560
Zysk (strata) brutto	6 400
Obowiązkowe obciążenia wyniku finansowego	1 216
Zysk (strata) netto

Na podstawie danych zamieszczonych w tabeli oblicz wartość wyniku finansowego netto.

- A. 7 616 tys. zł
- B. 6 550 tys. zł
- C. 6 400 tys. zł
- D. 5 184 tys. zł

Zadanie 33.

Zwiększenie wyniku finansowego hurtowni z 20 000,00 zł na 26 000,00 zł mogło być spowodowane

- A. zmniejszeniem kosztów przy takich samych przychodach.
- B. zwiększeniem kosztów przy takich samych przychodach.
- C. zmianą formuły obliczania wyniku finansowego.
- D. zmianą sposobu ewidencjonowania kosztów.

Zadanie 34.

Stawki podatków dochodowych PIT i CIT w roku 2016

PIT	Podstawa obliczenia podatku		Podatek wynosi
	ponad	do	
		85 528 zł	18% minus kwota zmniejszająca podatek 556 zł 02 gr
	85 528 zł		14 839 zł 02 gr + 32% nadwyżki ponad 85 528 zł
CIT	Dochód		19% podstawy opodatkowania

Spółka z ograniczoną odpowiedzialnością w roku 2016 osiągnęła dochód w wysokości 120 000,00 zł, będący w całości podstawą opodatkowania podatkiem dochodowym. Na podstawie zamieszczonych informacji oblicz wysokość zobowiązania podatkowego spółki.

- A. 25 870,06 zł
- B. 22 800,00 zł
- C. 21 600,00 zł
- D. 21 043,98 zł

Zadanie 35.

Na podstawie danych zawartych w tabeli, oblicz kwotę zobowiązania z tytułu podatku VAT podlegającą wpłacie do urzędu skarbowego za październik 2016 r.

- A. 2 800,00 zł
- B. 2 150,00 zł
- C. 950,00 zł
- D. 900,00 zł

Informacje o podatku VAT za październik	Wartość w zł
Podatek VAT naliczony od nabycia towarów i usług pozostałych	650,00
Podatek VAT należny od sprzedaży	1 850,00
Nadwyżka podatku naliczonego z poprzedniego miesiąca	300,00

Zadanie 36.

Faktura sprzedaży

CUKROWNIA SŁOD sp. z o.o. ul. Przemysłowa 2 12-600 Nowy Sącz			FAKTURA NR 144/05/2016					
			Wystawiono: Nowy Sącz, dnia 10.05.2016 r.					
			Data dokonania sprzedaży 10.05.2016 r.					
Sprzedawca: CUKROWNIA SŁOD sp. z o.o. ul. Przemysłowa 2, 12-600 Nowy Sącz NIP 3421530620 BZ WBK 65 1126 0000 1111 0000 4422 7701				Nabywca: Hurtownia SMAK ul. Mazurska 54, 55-800 Ciechanów NIP 8301201132				
				Sposób i termin zapłaty: przelew 14 dni				
Lp.	Nazwa towaru lub usługi	J.m.	Ilość	Cena jednostkowa w zł	Wartość netto w zł	VAT		Wartość brutto w zł
						w %	kwota w zł	
1.	Cukier	kg	2 700	1,60	4 320,00	8		
Słownie:				RAZEM	4 320,00	X		
				W TYM		23		
					4 320,00	8		
Wystawił(a): <i>Hanna Kruś</i>		Odebrał(a): <i>Kamil Borowski</i>			RAZEM DO ZAPŁATY:			

Którą kwotę w pozycji „Razem do zapłaty” należy wpisać w przedstawionej fakturze sprzedaży?

- A. 5 313,60 zł
- B. 4 665,60 zł
- C. 993,60 zł
- D. 345,60 zł

Zadanie 37.

Właściciel hurtowni przeprowadził analizę stanu zatrudnienia pracowników w ostatnim roku, przyjmując jako podstawę odniesienia wielkość zatrudnienia z lat ubiegłych. Wykorzystał on metodę porównań

- A. w przestrzeni.
- B. w czasie.
- C. z normą.
- D. parami.

Zadanie 38.

W którym kwartale hurtownia stosowała najkrótszy termin inkasa należności?

Wskaźnik rotacji należności w dniach

I kwartał	II kwartał	III kwartał	IV kwartał
28	22	20	14

- A. W I kwartale.
- B. W II kwartale.
- C. W III kwartale.
- D. W IV kwartale.

Zadanie 39.

Na podstawie danych zamieszczonych w tabeli ustal, która hurtownia uzyskała największą rentowność sprzedaży netto.

Hurtownia	Zysk netto w tys. zł	Przychody ze sprzedaży towarów w tys. zł
A.	28	820
B.	33	600
C.	36	360
D.	40	500

Zadanie 40.

Taktyczny plan gospodarczy przygotowany przez przedsiębiorstwo handlowe zgodnie z zasadą elastyczności planowania powinien

- A. przewidywać uzyskanie określonych efektów działalności przy minimalnych nakładach.
- B. być przygotowany w dwu wariantach – optymistycznym i pesymistycznym.
- C. być modyfikowany w zależności od zmian warunków gospodarowania.
- D. uwzględniać tylko najważniejsze zadania.

